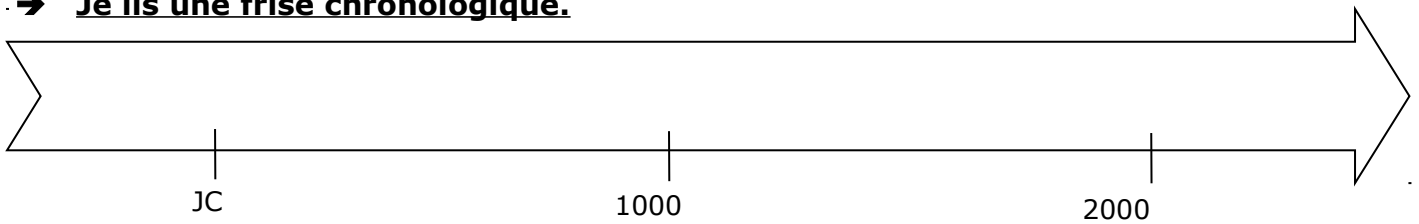


## 6°- fiche méthode : La frise chronologique

### → Je lis une frise chronologique.

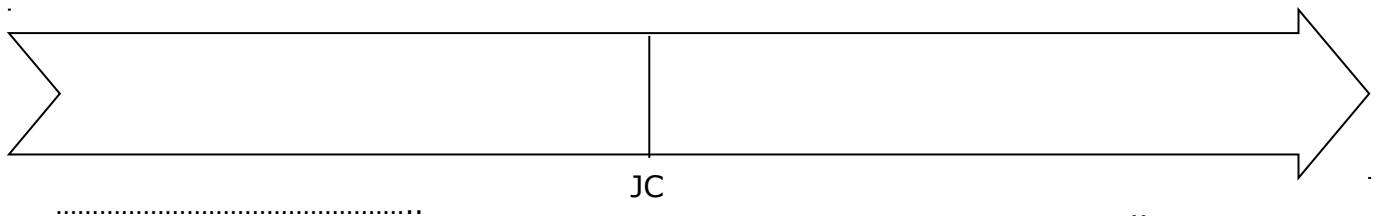


1) Sur cette ligne, il y a **un point de départ**. A quoi correspond « JC » ?

- La naissance de Jésus-Christ
- la mort de Jésus-Christ

2) Sur les pointillés, place les mots « avant JC » et « après JC » à la bonne place.

3) Sur la frise ci-dessous, je coloris en rouge les années après Jésus-Christ, et je colorie en bleu les années avant Jésus-Christ.



### Quand un événement est arrivé avant Jésus-Christ, il faut le préciser !

Ex : Jules César est mort en 44 avant Jésus-Christ (ou av. J-C)

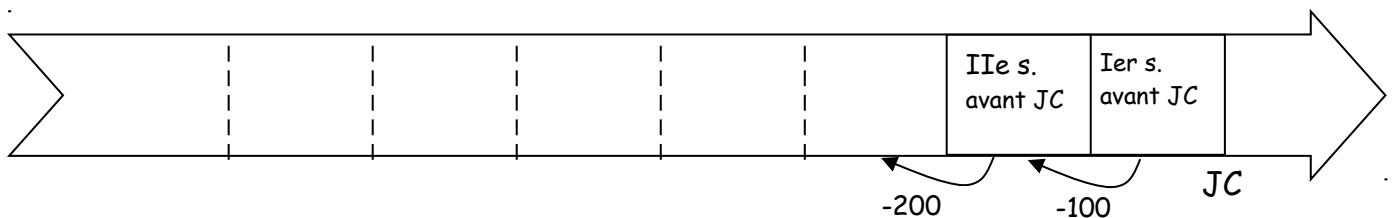
Jules César est mort en - 44.

### Quand un événement est arrivé après Jésus-Christ, on n'est pas obligé de l'écrire

Ex : Clovis, le roi des Francs, a été baptisé en 496.

4) Sur la frise ci-dessous, continue à compter les siècles.

Quand on est **avant Jésus-Christ**, on compte à l'envers (comme pour le thermomètre)



La flèche de la frise est toujours dans le même sens : vers la .....

### → Je calcule une durée.

- Si l'on est après J-C ou avant J-C, on soustrait les 2 dates.

Ex :  $1918 - 1914 = 4$  → La 1ère Guerre mondiale a duré 4 ans.

- Si l'on est à la fois avant et après J-C, on additionne les dates.

Ex : l'empereur Auguste a régné de -27 à 14. →  $27 + 14$  → Auguste a régné 41 ans.

5) Calcule :

- la durée de l'Empire Romain (-27 - 476) : .....
- la durée du Moyen-Age (476 - 1492) : .....