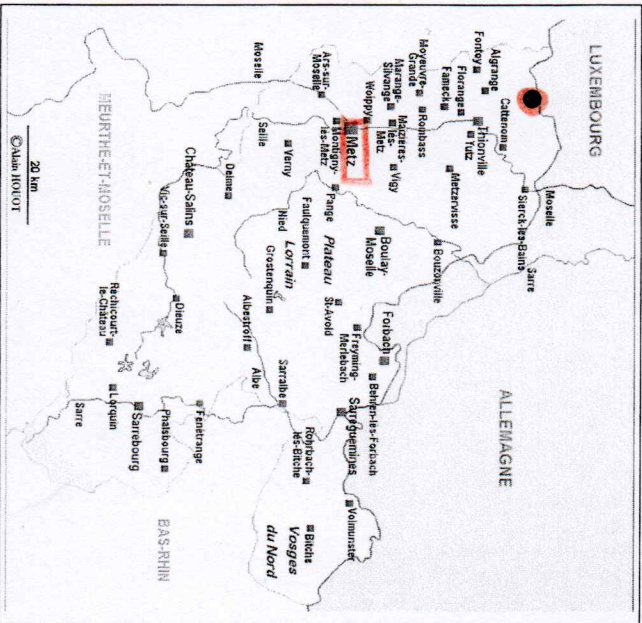


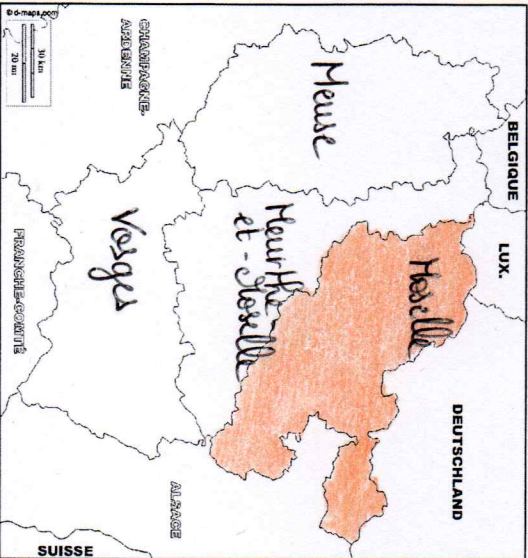
6° - Mon espace proche

Comment me repérer sur une carte, en France ?



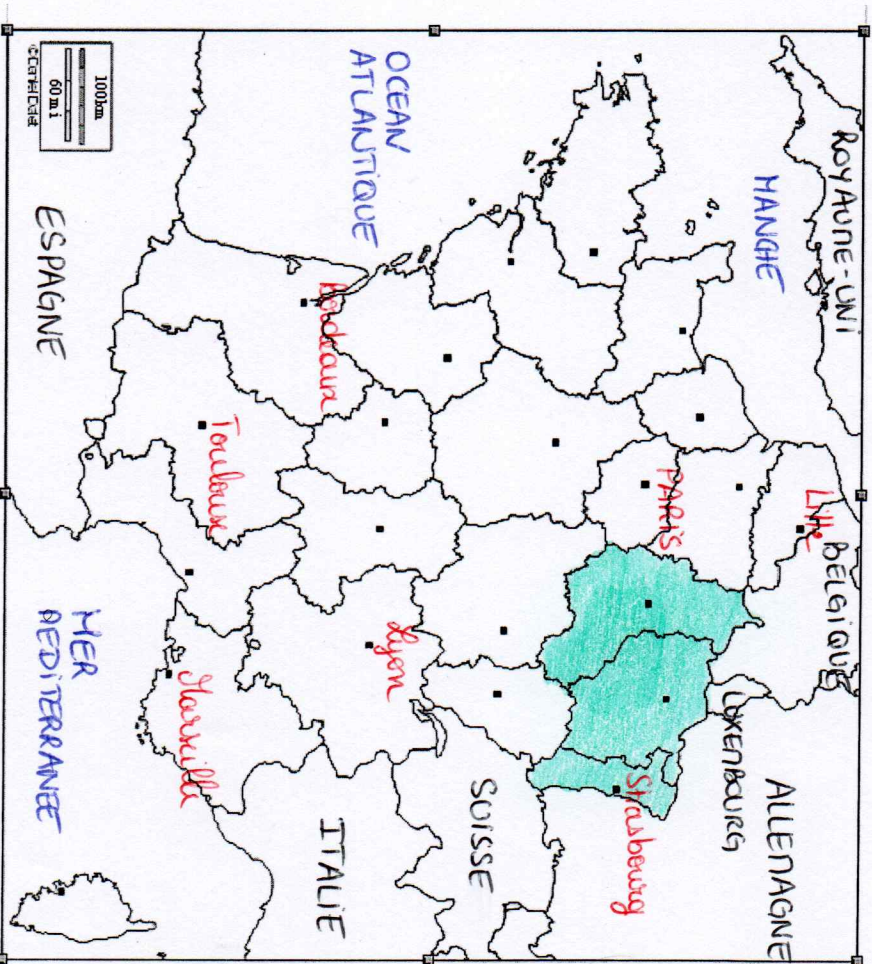
Carte 1 : Le département de la Moselle

- 1) Au **crayon rouge**, place la commune de Volmerange.
- 2) Au **crayon rouge**, encadre la préfecture du département, Metz.
- 3) Où se situe Volmerange par rapport à Metz ? **au Nord**



Carte 2 : les départements voisins de la Moselle

- 1) Au **stylo noir**, place les départements : Meurthe-et-Moselle, Vosges, Meuse, Moselle
- 2) Au **crayon orange**, colorie le département de la Moselle.



Carte 3 : la carte de France

Tu peux t'aider du dictionnaire, de ton agenda.

- 1) Au **stylo bleu et en lettres majuscules**, écris le nom des mers et océans.
- 2) Au **stylo rouge et en lettres majuscules**, écris le nom de la capitale, Paris.
- 3) Au **stylo rouge**, écris Strasbourg, Marseille, Lyon, Bordeaux, Toulouse, Lille au bon endroit
- 4) Au **crayon vert**, colorie la région Grand Est (Alsace, Champagne-Ardenne, Lorraine).
- 5) **Complète la phrase** : La Lorraine se situe **à l'est** de la France.
- 6) Au **stylo noir et en lettres majuscules**, écris les noms des pays frontaliers suivants : Espagne, Italie, Suisse, Allemagne, Luxembourg, Belgique, Royaume-Uni.