


Correctif

Le XX^e siècle (2)

CORRIGÉS

1. Situe les événements de la fiche C5 sur la ligne du temps.



2. Jacques Brel fut l'un des plus grands artistes chanteurs de chez nous.



Né à Bruxelles le 8 avril 1929,
il mourut dans un hôpital parisien
le 9 octobre 1978.

Trace, sur la ligne du temps ci-dessus, un trait rouge pour représenter la vie de Jacques Brel.

3. Jacques Brel a-t-il pu connaître :

L'exposition universelle de 1958 ?

oui - non

La mort du Roi Albert 1^{er} ?

oui - non

Le naufrage du Titanic ?

oui - non

4. Lorsque Neil Armstrong fit ses premiers pas sur la lune, quel était l'âge de Jacques Brel ?

Il avait entre 39 et 40 ans entre 40 et 41 entre 41 et 42 ans (choisis)




Jacques Brel interprétait une chanson dont le titre est :

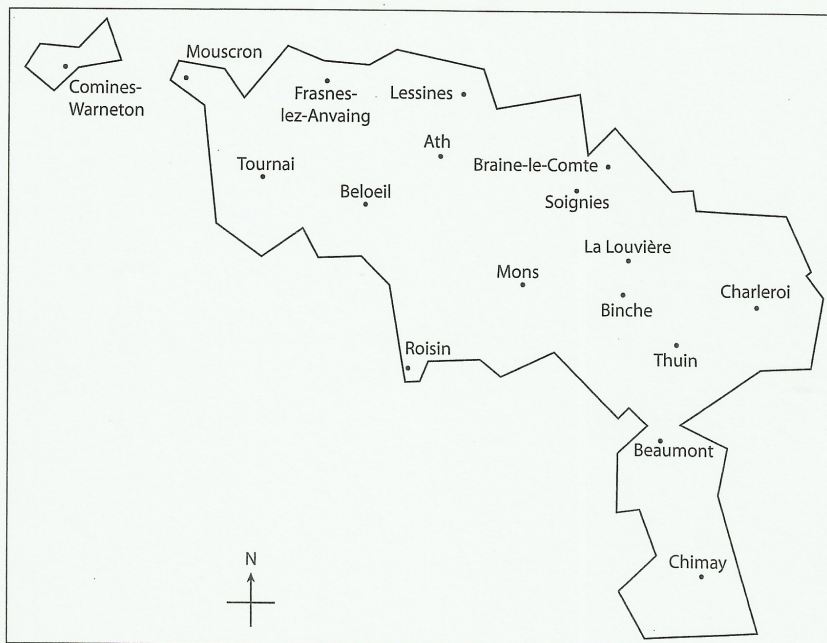
"Le plat pays"

De quoi parlait-il ? Renseigne-toi.

Où sommes-nous ?




Observe cette carte schématique de la province de Hainaut.

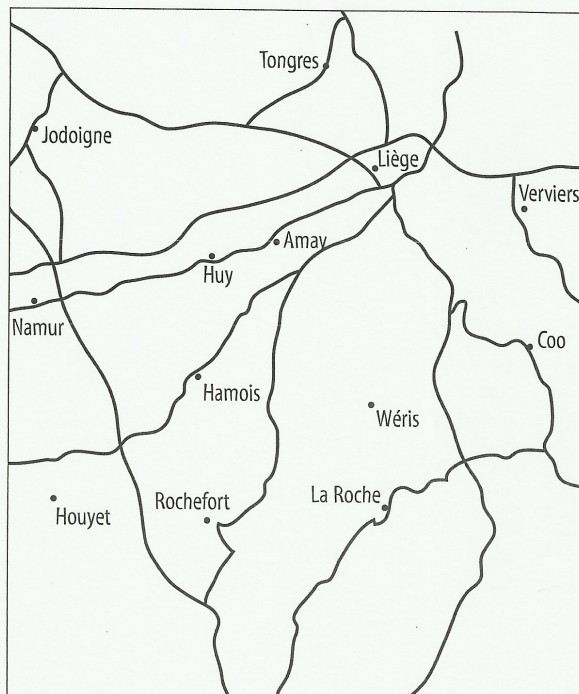


1. Si tu te trouves à **Mons**, tu es au Nord - à l'Est - au Sud - à l'Ouest de Binche.
Si tu te trouves à **Ath**, tu es au Nord - à l'Est - au Sud - à l'Ouest de Lessines.
Si tu te trouves à **Beaumont**, tu es au Nord - à l'Est - au Sud - à l'Ouest de Chimay.
2. Tu voyages de Tournai à Charleroi.
Tu te diriges vers le Nord - l'Est - le Sud - l'Ouest
3. Tu vas de Lessines à Roisin.
Tu te diriges vers le Nord - l'Est - le Sud - l'Ouest
4. Ecris le nom de deux localités situées au Nord de Beaumont :
Thuin, Binche, La Louvière, Soignies, Braine-le-Comte
5. Ecris le nom de deux localités situées à l'Est de Mons :
Binche, La Louvière, Charleroi
6. Parmi les localités indiquées sur la carte,
- quelle est celle située le plus au Nord ? Mouscron
- quelle est celle située le plus au Sud ? Chimay

Quelle direction ?



Observe attentivement cette portion de carte de la Wallonie et choisis tes réponses.



1. Liège se trouve plutôt au Nord - à l'Est - au Sud - à l'Ouest de Wéris.
2. Rochefort est au Nord - à l'Est - au Sud - à l'Ouest de Hamois.
3. Namur est plutôt au Nord - à l'Est - au Sud - à l'Ouest de Huy.
4. La Roche est au Nord - à l'Est - au Sud - à l'Ouest de Liège.
5. Verviers est au Nord - à l'Est - au Sud - à l'Ouest de Namur.

6. Ecris :

- le nom d'une localité située au Nord de Namur : Jodoigne
- le nom d'une localité située à l'Ouest de Rochefort : Houyet
- le nom d'une localité située à l'Est de Huy : Amay, Verviers, Coe

7. Si tu voyages de Verviers à Jodoigne, tu vas :

du Nord au Sud

du Sud au Nord

de l'Est à l'Ouest

de l'Ouest à l'Est

(Choisis)