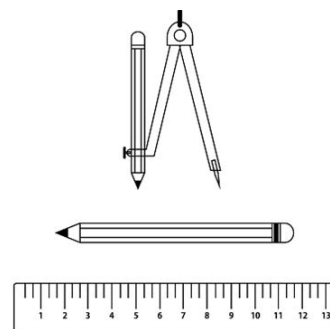





Activité de découverte du chapitre 5 - Triangles

Tu vas tracer des triangles avec ta règle, ton compas, et un crayon bien taillé.

Pour trouver les longueurs des côtés,

tu lanceras les trois dés que je te prête.



	Tracé du triangle
<p>Triangle 1</p> <p>1^{er} côté : ____ cm</p> <p>2^e côté : ____ cm</p> <p>3^e côté : ____ cm</p> 	
<p>Triangle 2</p> <p>1^{er} côté : ____ cm</p> <p>2^e côté : ____ cm</p> <p>3^e côté : ____ cm</p> 	
<p>Triangle 3</p> <p>1^{er} côté : ____ cm</p> <p>2^e côté : ____ cm</p> <p>3^e côté : ____ cm</p> 	

Bilan de l'activité :